



Projekt współfinansowany przez Unię Europejską w ramach Europejskiego Funduszu Społecznego.

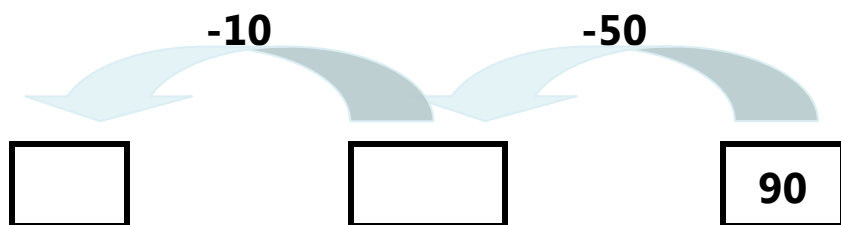
Karta pracy – Na Antarktydzie

Zadanie 1

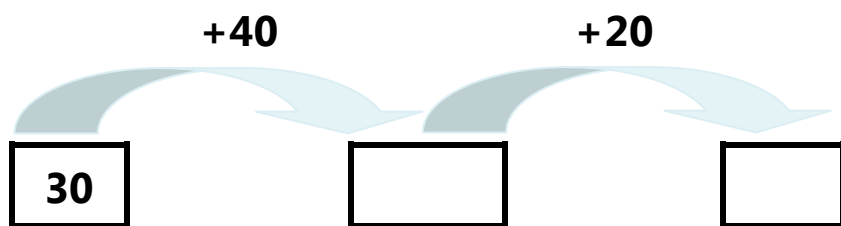
Uzupełnij grafy i działania właściwymi liczbami. Oblicz:




$$70 + 10 + 20 = \square$$



$$90 - 50 - 10 = \square$$



$$30 + 40 + \square = \square$$



$$50 + \square + \square = \square$$

